



# PREFEITURA MUNICIPAL DE TAUBATÉ

## SECRETARIA DE EDUCAÇÃO

# ESCOLA SEM MUROS: EM CASA TAMBÉM SE APRENDE!

### MATEMÁTICA - 3º ANO (Atividade 27)

**Habilidades:**(EF03MA06A) Resolver e elaborar problemas de adição com os significados de juntar, acrescentar, comparar e completar quantidades, utilizando diferentes estratégias de cálculo exato ou aproximado, incluindo cálculo mental. (EF03MA11) Compreender a ideia de igualdade para escrever diferentes sentenças de adições ou de subtrações de dois números naturais que resultem na mesma soma ou diferença; (EF03MA22B) Ler e registrar medidas e intervalo de tempo, utilizando relógio analógico para informar os horários de início e término de realização de uma atividade e sua duração.

1. Otávio e Fábio estão jogando vídeo game. Em cada partida o jogador tem direito a três jogadas e vence quem fizer mais pontos.

**Otávio** marcou 150 pontos na primeira jogada, 100 pontos na segunda e 50 pontos na terceira.

**Fábio** marcou 75 pontos na primeira, 150 pontos na segunda e 125 pontos na terceira.

A) Quantos pontos Otávio marcou, no total? \_\_\_\_\_

B) Quantos pontos Fábio marcou? \_\_\_\_\_

C) Qual dos dois ganhou a partida? \_\_\_\_\_

2. Durante o período de pandemia, os irmãos Guilherme e Carlos resolveram organizar suas figurinhas que estavam guardadas. Guilherme contou as suas e viu que tinha 42, Carlos tinha 36. Quantas figurinhas tem os dois juntos?

Resposta: \_\_\_\_\_

3. Estas sentenças possuem relação de igualdade ou diferença? Observe as fichas, calcule e escreva se os resultados são iguais ou diferentes.

$20 + 14 + 16 =$

$32 + 4 + 6 =$

---

$17 + 5 + 23 =$

$12 + 32 + 1 =$

---

$42 + 34 + 1 =$

$26 + 18 + 33 =$

---

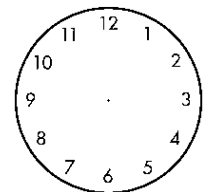
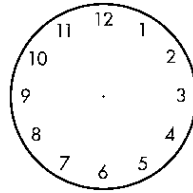
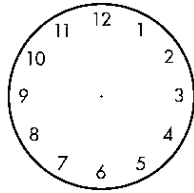
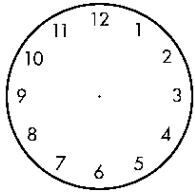
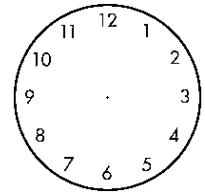
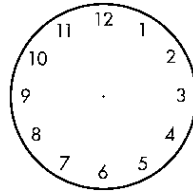
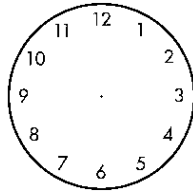
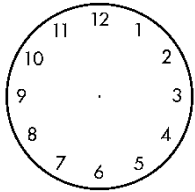
$27 + 39 + 9 =$

$10 + 28 + 46 =$


---

4. Marque os horários nos relógios abaixo.

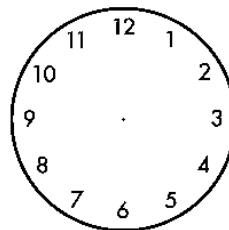
12:00	1:40	2:10	3:30
4:25	5:50	9:00	10:05



5. São 8 horas da manhã, vou almoçar às 13 horas. Quanto tempo falta para meu almoço? Coloque os ponteiros nos relógios para marcar o horário da manhã e o horário do almoço.



Horário da manhã



Horário do almoço

Falta para meu almoço \_\_\_\_\_