

**ESCOLA SEM
MUROS:
EM CASA
TAMBÉM SE
APRENDE**

2ª SÉRIE EM



GEOGRAFIA



Nessa aula você irá aprender sobre:

IMPACTO DO CAPITAL NO
PROCESSO DE INDUSTRIALIZAÇÃO E
URBANIZAÇÃO

Habilidade:

(HCEM03GE30T) Identificar e analisar os impactos da ação do capital no processo de industrialização e urbanização assim como na organização da produção e do espaço.

(HCM03GE31T) Reconhecer e analisar a organização espacial proveniente do processo de industrialização e urbanização.

VAMOS COMEÇAR?

A vintage map of the Arctic region, showing various islands and sea names like Barents Sea, Spitzbergen, and Kara Sea. A large white thought bubble with a black outline is centered on the map. Inside the bubble, the text reads 'Olá! Vamos realizar atividades sobre o tema?'. Two smaller, empty thought bubbles are positioned to the left of the main bubble.

Olá!
Vamos realizar atividades sobre o tema?



EXERCÍCIOS

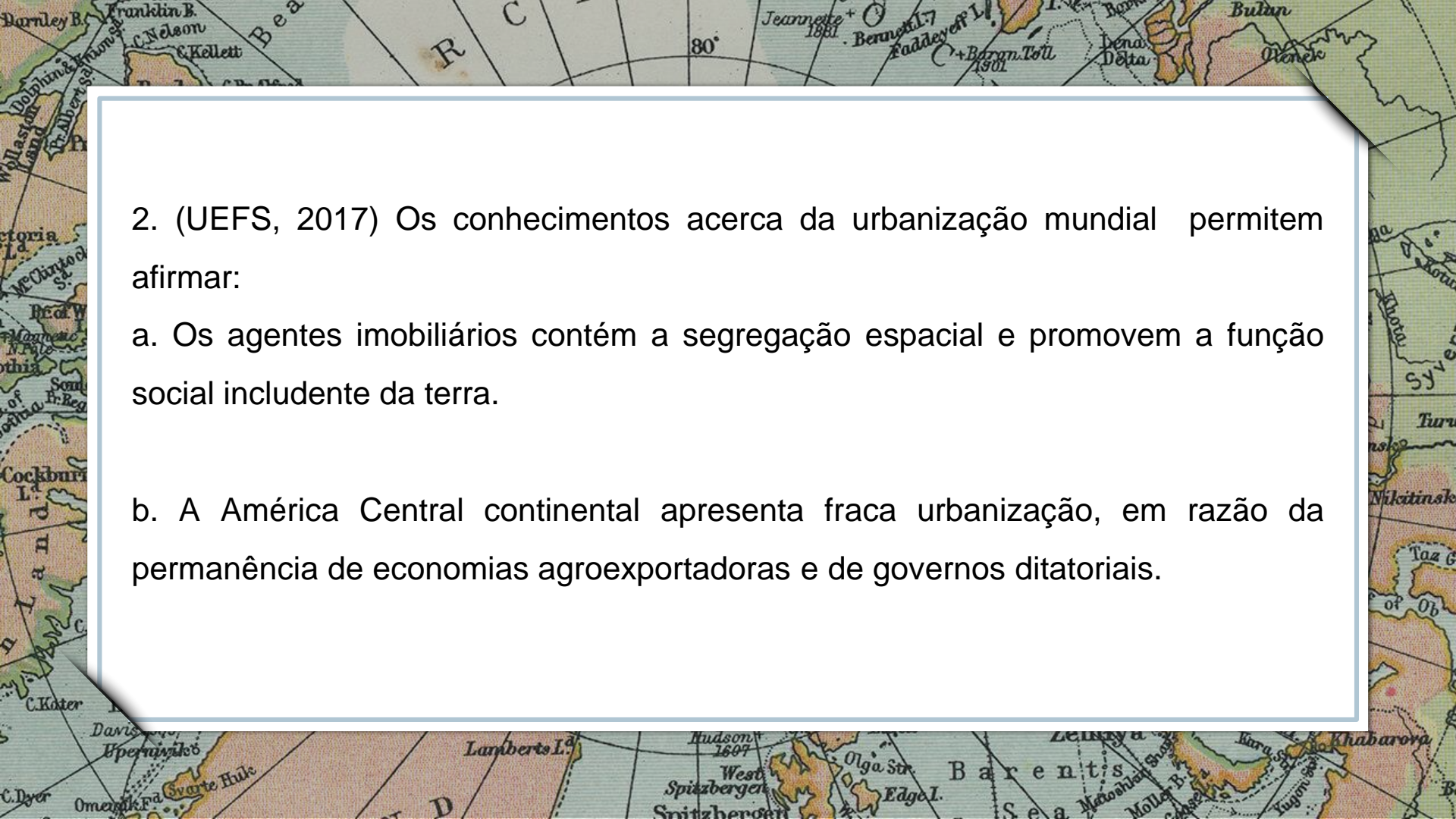
1. ([UNIFESP-SP](#)) No Brasil, em decorrência do processo de urbanização, verificou-se uma intensa metropolização, da qual resultaram:
 - a. cidades médias, que se industrializaram após a abertura econômica da década de 1990, como Campinas e Ouro Preto.
 - b. metrópoles nacionais, sedes do poder econômico e político do país, como São Paulo, Brasília e Rio de Janeiro.

c. cidades mundiais, que receberam vultosos investimentos externos no início do século XXI, como Belo Horizonte e Rio de Janeiro.

d. megacidades dispersas pelo país, graças ao retorno de imigrantes, como Manaus, Goiânia e Curitiba.

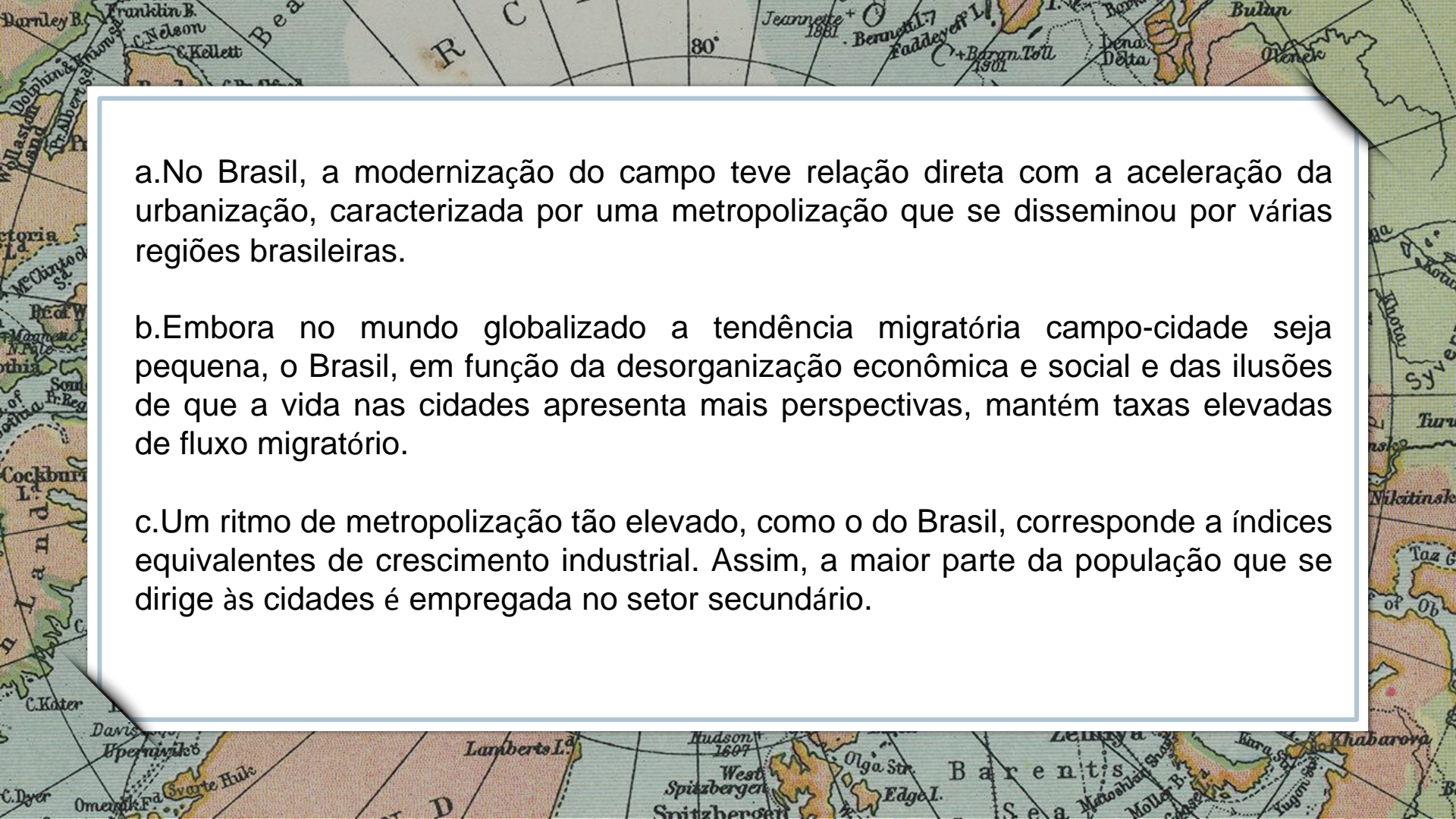


Imagem: <https://br.freepik.com/>

- 
2. (UEFS, 2017) Os conhecimentos acerca da urbanização mundial permitem afirmar:
- a. Os agentes imobiliários contêm a segregação espacial e promovem a função social includente da terra.
 - b. A América Central continental apresenta fraca urbanização, em razão da permanência de economias agroexportadoras e de governos ditatoriais.

3. ([UNCISAL](#)) – Tendo como referência o texto abaixo, assinale a opção correta.

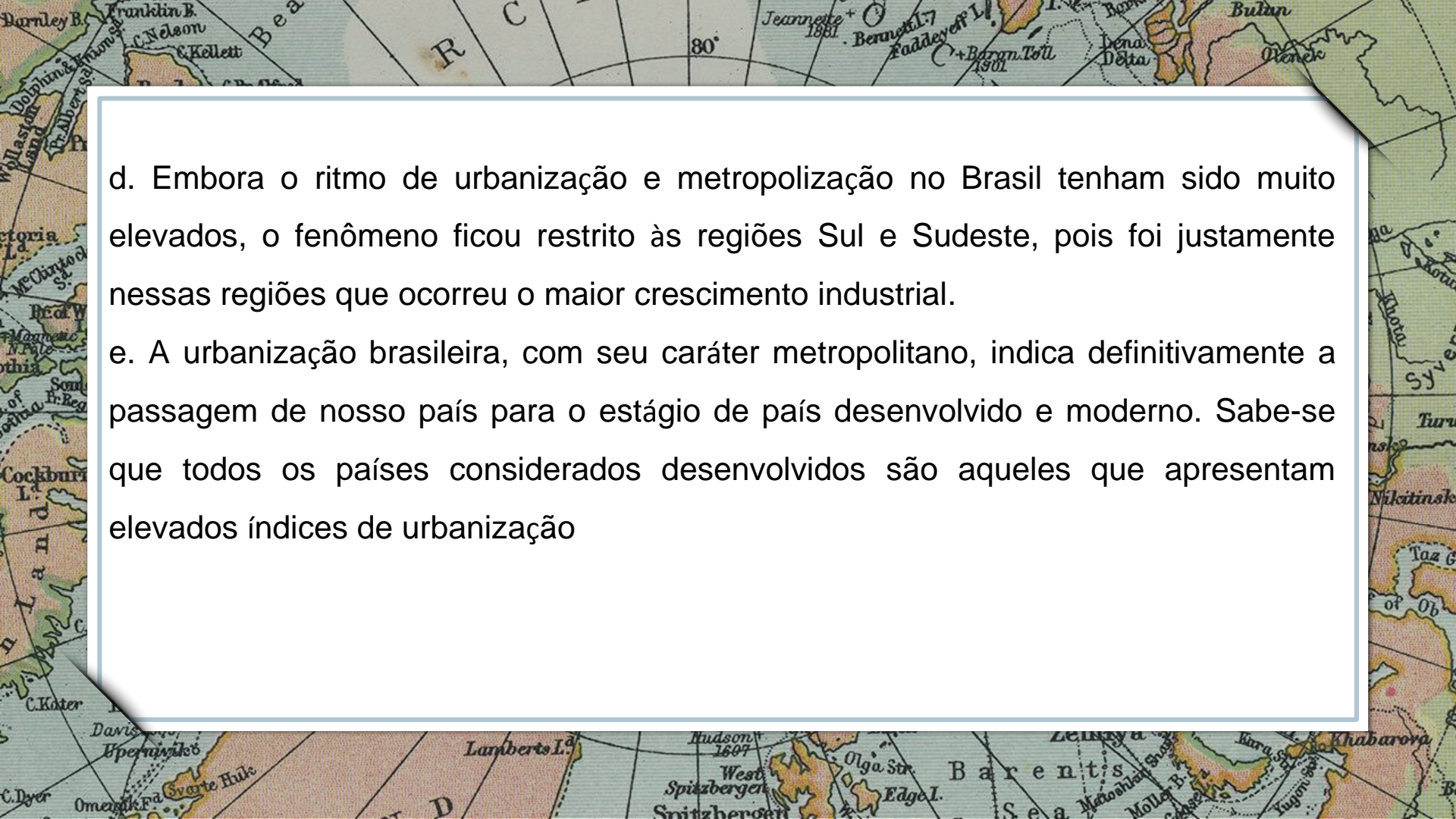
“As cidades milionárias (com mais de um milhão de habitantes) que eram apenas duas em 1960 – São Paulo e Rio de Janeiro são cinco em 1970, dez em 1980, doze em 1991, treze em 2000 e quinze em 2010 (IBGE). Esses números ganham maior significação se nos lembrarmos que, historicamente, em 1872, a soma total das dez maiores cidades brasileiras não alcançavam um milhão de habitantes, pois somavam apenas 815.729 pessoas. Esta é a nova realidade da macro urbanização ou metropolização brasileira” (Adaptado. Santos, M. Urbanização Brasileira).



a.No Brasil, a modernização do campo teve relação direta com a aceleração da urbanização, caracterizada por uma metropolização que se disseminou por várias regiões brasileiras.

b.Embora no mundo globalizado a tendência migratória campo-cidade seja pequena, o Brasil, em função da desorganização econômica e social e das ilusões de que a vida nas cidades apresenta mais perspectivas, mantém taxas elevadas de fluxo migratório.

c.Um ritmo de metropolização tão elevado, como o do Brasil, corresponde a índices equivalentes de crescimento industrial. Assim, a maior parte da população que se dirige às cidades é empregada no setor secundário.



d. Embora o ritmo de urbanização e metropolização no Brasil tenham sido muito elevados, o fenômeno ficou restrito às regiões Sul e Sudeste, pois foi justamente nessas regiões que ocorreu o maior crescimento industrial.

e. A urbanização brasileira, com seu caráter metropolitano, indica definitivamente a passagem de nosso país para o estágio de país desenvolvido e moderno. Sabe-se que todos os países considerados desenvolvidos são aqueles que apresentam elevados índices de urbanização

Parabéns, você realizou as atividades de Geografia!



Até a próxima aula! 😊

**E.P.P. – EQUIPE DE PRÁTICAS
PEDAGÓGICAS
E
PROFESSORES DA REDE MUNICIPAL DE
ENSINO**

