



PREFEITURA MUNICIPAL DE TAUBATÉ

SECRETARIA DE EDUCAÇÃO

ESCOLA SEM MUROS: EM CASA TAMBÉM SE APRENDE!

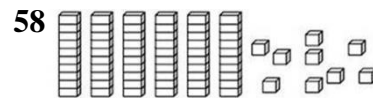
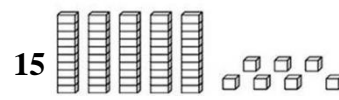
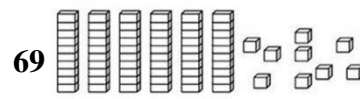
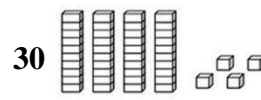
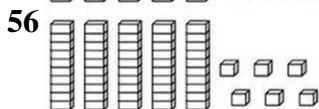
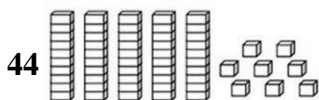
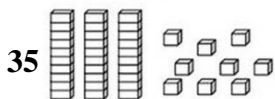
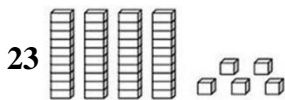
MATEMÁTICA – 2º ANO – Atividade 25

HABILIDADE: (EF02MA04) COMPOR E DECOMPOR NÚMEROS NATURAIS DE ATÉ TRÊS ORDENS, COM SUPORTE DE MATERIAL MANIPULÁVEL, POR MEIO DE DIFERENTES ADIÇÕES.

1. COMPLETE OS VALORES DE ACORDO COM AS CLASSES E ORDENS:

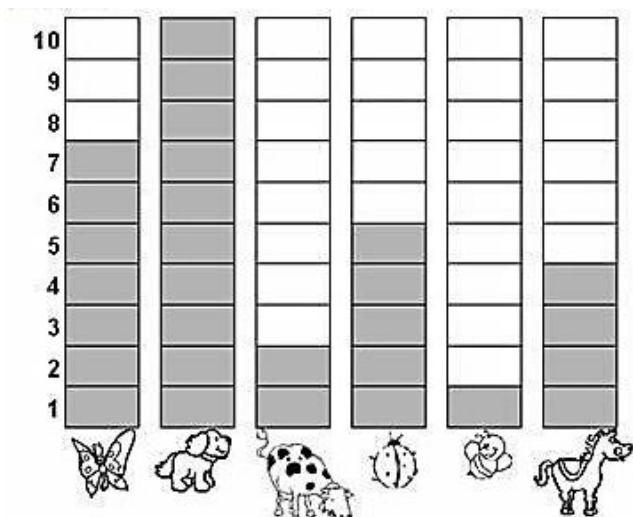
156	1 CENTENA, 5 DEZENAS E 6 UNIDADES
89	
96	
198	
104	

2. PINTE AS PEÇAS DO MATERIAL DOURADO DE ACORDO COM O NÚMERO:



HABILIDADE: (EF02MA22) COMPARAR INFORMAÇÕES DE PESQUISAS APRESENTADAS POR MEIO DE TABELAS DE DUPLA ENTRADA E EM GRÁFICOS DE COLUNAS SIMPLES OU BARRAS, PARA MELHOR COMPREENDER ASPECTOS DA REALIDADE PRÓXIMA.

3. OBSERVE O GRÁFICO QUE MOSTRA O ANIMAL PREFERIDO PELOS ALUNOS DO 2º ANO E COMPLETE A TABELA COM A QUANTIDADE DE CADA ANIMAL.



NOME DO ANIMAL	QUANTIDADE
ABELHA	
BORBOLETA	
CACHORRO	
CAVALO	
JOANINHA	
VACA	

4. DE ACORDO COM O GRÁFICO E A TABELA ACIMA RESPONDA:

- A) QUAL FOI O ANIMAL MAIS VOTADO? _____
- B) QUAL FOI O ANIMAL MENOS VOTADO? _____
- C) QUANTOS VOTOS TEVE O CAVALO? _____
- D) QUAL ANIMAL TEVE 7 VOTOS? _____

HABILIDADE: (EF02MA13) ESBOÇAR ROTEIROS A SER SEGUIDOS OU PLANTAS DE AMBIENTES FAMILIARES, ASSINALANDO ENTRADAS, SAÍDAS E ALGUNS PONTOS DE REFERÊNCIA;

5. PARA PEDRO IR À FESTA DE ANIVERSÁRIO DE LUIZA DEVERÁ PERCORRER UM TRAJETO. TRACE ESSE PERCURSO E MARQUE O NOME DE PEDRO E LUÍZA EM SUAS MORADIAS, SEGUINDO AS ORIENTAÇÕES DADAS:

- A) A CASA DE LUÍZA FICA NO QUARTEIRÃO DA PADARIA.
- B) ELA MORA DO LADO DIREITO DO PRÉDIO DESSE QUARTEIRÃO.
- C) A RESIDÊNCIA DE PEDRO FICA PERTO DA ESCOLA.
- D) PEDRO NÃO MORA EM UMA CASA.
- LUÍZA MORA NA RUA _____
- PEDRO MORA NA RUA _____

