



# PREFEITURA MUNICIPAL DE TAUBATÉ

## SECRETARIA DE EDUCAÇÃO

# ESCOLA SEM MUROS: EM CASA TAMBÉM SE APRENDE!

### MATEMÁTICA - 3º ANO (Atividade 24)

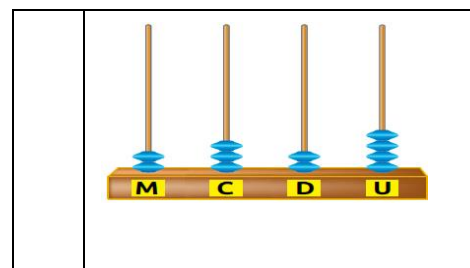
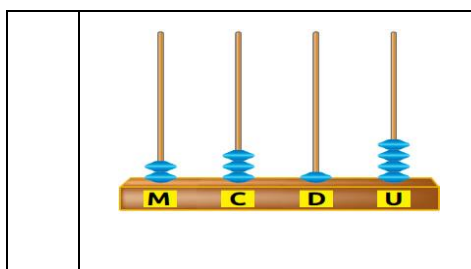
**HABILIDADES: (EF03MA05) UTILIZAR DIFERENTES PROCEDIMENTOS DE CÁLCULO MENTAL E ESCRITO PARA RESOLVER PROBLEMAS SIGNIFICATIVOS ENVOLVENDO ADIÇÃO E SUBTRAÇÃO COM NÚMEROS NATURAIS. (EF03MA06A) RESOLVER E ELABORAR PROBLEMAS DE ADIÇÃO COM OS SIGNIFICADOS DE JUNTAR, ACRESCENTAR, COMPARAR E COMPLETAR QUANTIDADES, UTILIZANDO DIFERENTES ESTRATÉGIAS DE CÁLCULO EXATO OU APROXIMADO, INCLUINDO CÁLCULO MENTAL. (EF03MA24) RESOLVER E ELABORAR PROBLEMAS QUE ENVOLVAM A COMPARAÇÃO E A EQUIVALÊNCIA DE VALORES MONETÁRIOS DO SISTEMA BRASILEIRO EM SITUAÇÕES DE COMPRA, VENDA E TROCA.**

1. LUCAS, RAUL E ANA ESTÃO REPRESENTANDO O MESMO NÚMERO.



FONTE: [HTTP://COLECAOMEULIVRO.COM.BR/NOVA/MATEMATICA/INDEX.PHP?PG=ENEM\\_ATV&LST\\_ENEM=19](http://colecaomeulivro.com.br/nova/matematica/index.php?pg=enem_atv&lst_enem=19)

AGORA, MARQUE COM UM (X) O ÁBACO QUE REPRESENTA CORRETAMENTE ESTE NÚMERO.



2. ARME E RESOLVA AS CONTAS. DEPOIS, PINTE DE AMARELO A QUE TEM O MAIOR RESULTADO E DE VERMELHO A QUE TEM O MENOR RESULTADO.

A)  $959 + 4 =$

B)  $655 + 5 =$

C)  $2.262 - 1.112 =$

D)  $1632 - 110 =$

A	B	C	D

3. ESTAMOS NO ANO 2.020, PENSANDO NISSO, RESPONDA ÀS QUESTÕES:

A) MINHA IRMÃ NASCEU ESTE ANO. EM, 2024, ELA TERÁ QUANTOS ANOS? \_\_\_\_\_

B) MEU IRMÃO NASCEU NO ANO DE 2.007. HOJE ELE ESTÁ COM \_\_\_\_\_ ANOS


UM	C	D	U

UM	C	D	U

A) $966 + 861$	1203	1793	1.827
B) $8.222 + 1.992$	11.778	10.214	10.345
C) $700 - 235$	478	390	465
D) $446 - 242$	205	204	211

4. QUAL O RESULTADO CORRETO DE CADA CONTA? PINTE A RESPOSTA CORRETA:

5. MINHA TIA, DISSE QUE TEM AS SEGUINTE NOTAS PARA GASTAR NAS LOJAS DA CIDADE. QUAL É A QUANTIA QUE ELA TEM, AO TODO? ASSINALE A RESPOSTA CERTA:



- ( ) R\$ 62,00
- ( ) R\$ 114,00
- ( ) R\$ 112,00
- ( ) R\$ 110,00